

Ubicación de Puerto Rico

Nombre: _____ Fecha: _____



Puerto Rico es un archipiélago localizado en la región del Caribe, al este de la República Dominicana y al oeste de las Islas Vírgenes de los Estados Unidos y las Islas Vírgenes Británicas. La isla principal se conoce como Isla Grande, y la isleta de San Juan es la capital. Las islas municipio de Vieques y Culebra se ubican al este de la Isla Grande. Otras islas de menor tamaño, islotes y cayos bordean las costas y son parte de Puerto Rico.

En términos de su localización absoluta, la isla principal de Puerto Rico se encuentra en las coordenadas marcadas por las latitudes $17^{\circ} 50'$ y $18^{\circ} 30'$ N y las longitudes $65^{\circ} 36'$ y $67^{\circ} 15'$ O.

La Isla Grande tiene una forma rectangular con un tamaño aproximado de 11.5 millas de largo por 3.8 de ancho.

La ubicación de Puerto Rico en el Caribe central facilita el acceso y las conexiones con otras islas caribeñas, así como con países de América del Norte y del Sur. Desde el punto de vista económico, Puerto Rico actúa como un importante puerto y centro de comercio en el Caribe.

Contesta:

1. ¿Cuál es la localización relativa de Puerto Rico?

2. ¿Cómo se llama la isla principal de Puerto Rico?

3. ¿Cuál es la capital de Puerto Rico?

4. ¿Cuál es la localización absoluta de la isla principal de Puerto Rico?

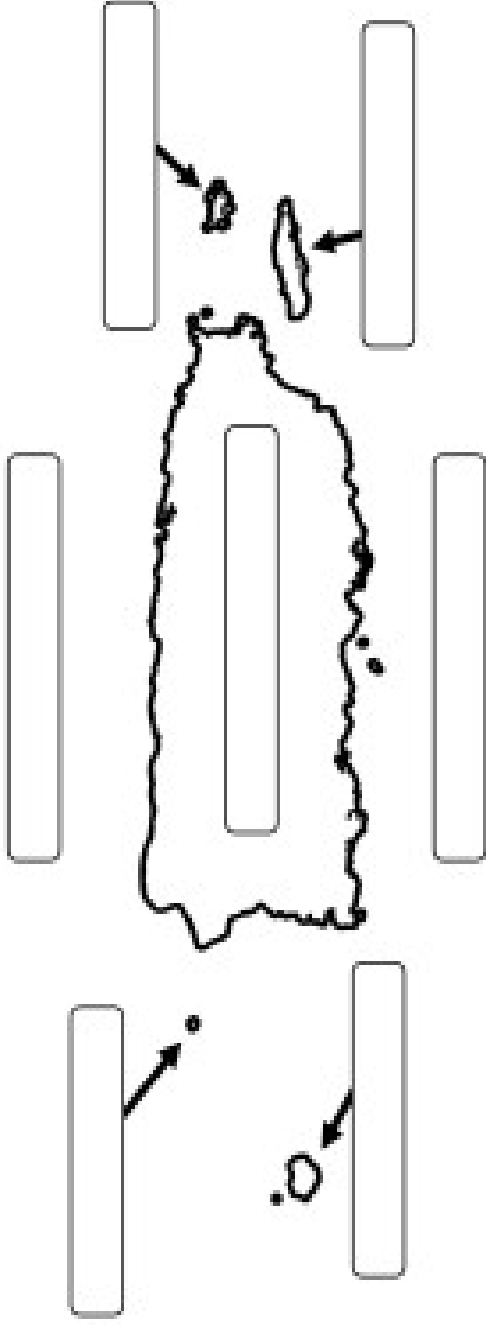
5. ¿Cuál es la forma y el tamaño aproximado de la Isla Grande?

6. ¿Cómo beneficia la ubicación de Puerto Rico en el Caribe central a su economía?

El archipiélago de Puerto Rico

Un archipiélago es _____

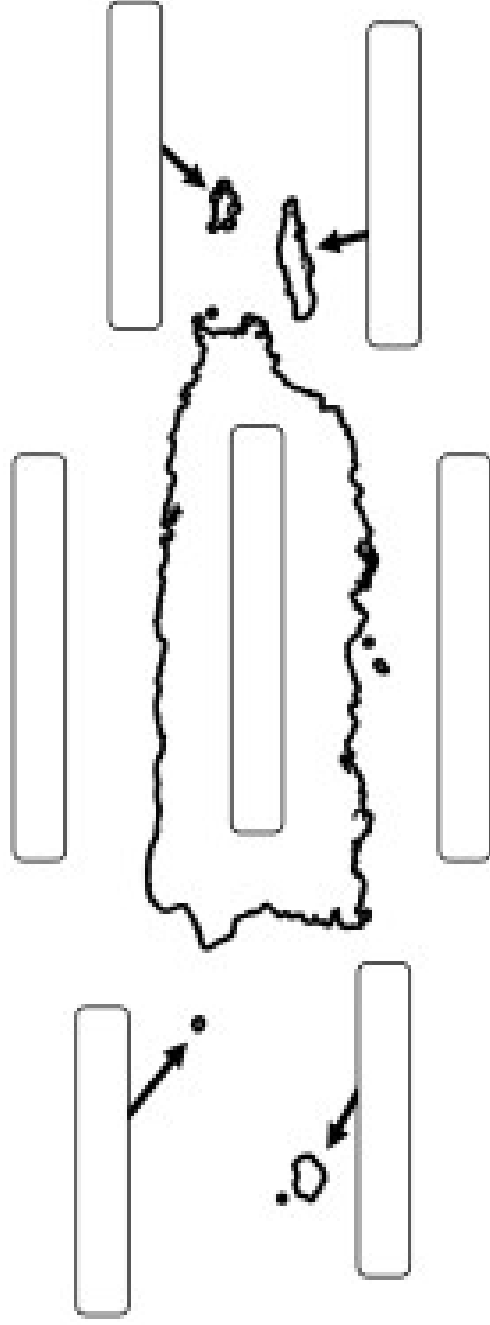
Escribe los nombres de las islas que componen el archipiélago de Puerto Rico.
Identifica también los cuerpos de agua que la rodean.



El archipiélago de Puerto Rico

Un archipiélago es _____

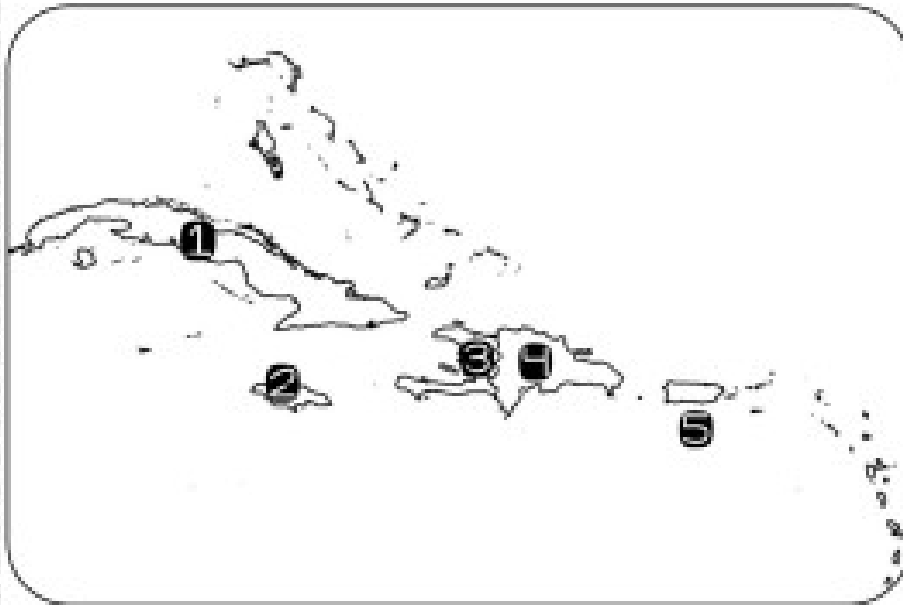
Escribe los nombres de las islas que componen el archipiélago de Puerto Rico.
Identifica también los cuerpos de agua que la rodean.



Las Antillas Mayores

Nombre: _____ Fecha: _____

Escribe los nombres de las islas que componen las Antillas Mayores.



1

3

2

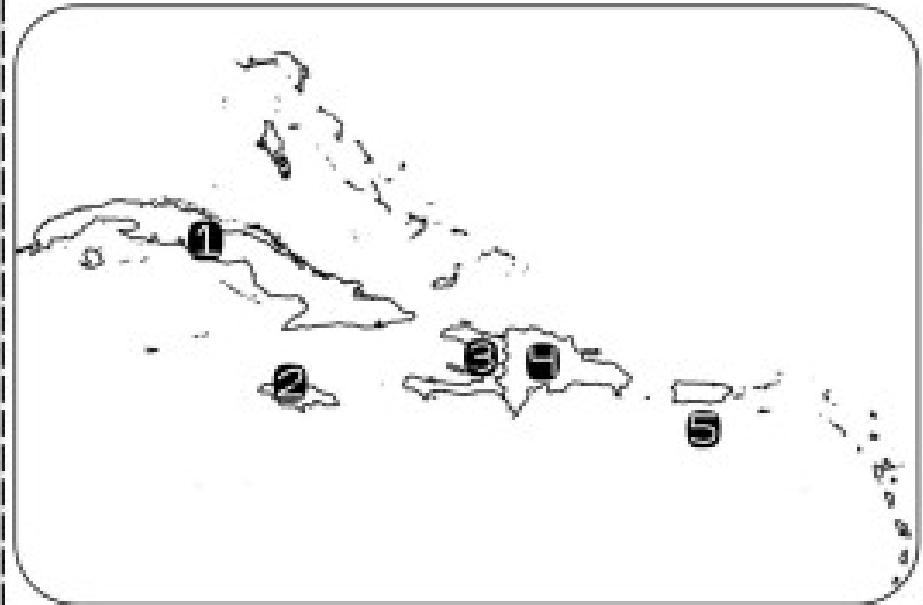
4

5

Las Antillas Mayores

Nombre: _____ Fecha: _____

Escribe los nombres de las islas que componen las Antillas Mayores.



1

3

2

4

5

p:'



